

MAPA 67 CHILE

1) Mira el mapa y une cada población indígena con su región natural.

Aymara	NORTE GRANDE
Kawesqar	ZONA CENTRAL
Mapuche	ZONA AUSTRAL
Yagan	ZONA AUSTRAL

2) Mira el mapa y contesta. ¿Dónde crees que hará más frío: Norte Grande, Zona Central o Zona Austral?

_____.

3) En el Norte Chico está el único desierto del mundo. ¿Cómo se llama? Búscalo en el mapa y coloréalo de morado.

_____.












4) El Valle de la Luna se encuentra al norte de ese desierto, cerca de la frontera con Bolivia. Dibújalo según la leyenda y nómbralo en el mapa.

5) El lago General Carrera es un lago situado al _____ de Chile. Al _____ del lago está Argentina.

6) La Catedral de Mármol es una caverna situada en el centro del lago General Carrera. Dibújala según la leyenda.

7) Traza una línea recta horizontal desde la frontera entre la Zona Sur y la Zona Austral de Chile hacia el oeste de la costa. Dibuja un triángulo y coloréalo de azul. ¡Es la Isla de Pascua!

LEYENDA

-  Montaña
-  Desierto de Atacama
-  Valle de la Luna
-  Costa
-  Lago
-  Pueblo Aymara
-  Pueblo Kawesqar
-  Pueblo Mapuche
-  Pueblo Yagan
-  Isla de Pascua
-  Caverna

